



केन्द्रीय रिजर्व पुलिस बल CENTRAL RESERVE POLICE FORCE

Test Date	23/02/2023
Test Time	9:00 AM - 10:30 AM
Subject	Head Constable Ministerial

Section : Hindi Language

Q.1 'इस पूरे माहौल में एक उदासी सी व्यापित है।' -- इस वाक्य में वर्तनी सम्बन्धी अशुद्धि है। शुद्ध वाक्य का चयन करें-

- Ans
- A. इस पूरे माहौल में एक उदासी सी व्यापित है।
 - B. इस पूरे माहौल में एक उदासी सी व्याप्त है।
 - C. इस पूरे माहौल में एक उदासी सी व्यापित है।
 - D. इस पूरे माहौल में एक उदासी सी व्याप्त है।

INDIA

Question ID : 630680176186

Status : Answered

Chosen Option : D

Q.2 किसी प्रस्ताव को मान लेने का अर्थ 'स्वीकार' है तो 'अनुमोदन' का आशय स्पष्ट करें-

- Ans
- A. किसी आलेख, टिप्पणी, कार्यवाही आदि पर विचार प्रकट करना
 - B. किसी आलेख, टिप्पणी, कार्यवाही, कथन आदि पर सहमति प्रकट करना
 - C. किसी बात को हृदयंगम करना
 - D. किसी बात को आत्मसात कर लेना

Question ID : 630680176184

Status : Answered

Chosen Option : B

Q.3 उचित शब्द चुनकर वाक्य में रिक्त स्थान की पूर्ति करें-
'प्रधान जी का चला जाना हमारे लिए _____ क्षति है।'

- Ans A. बहुत
 B. अपूर्ण
 C. अपूर्णनीय
 D. अपूर्व

Question ID : 630680176193
Status : Marked For Review
Chosen Option : B

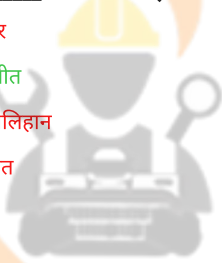
Q.4 निम्नलिखित में से 'ओज' के पर्यायवाची शब्द का चयन कीजिए-

- Ans A. क्षुद्रता
 B. शपथ
 C. वैभव
 D. दीप्ति

Question ID : 630680176181
Status : Answered
Chosen Option : C

Q.5 'बालू पर _____ बनाना।' - सही शब्द चुनकर मुहावरे को पूर्ण करें-

- Ans A. घर
 B. भीत
 C. खलिहान
 D. खेत



INDIA

Question ID : 630680176188
Status : Answered
Chosen Option : A

Q.6 निम्नलिखित में से शुद्ध पदक्रम वाले वाक्य का चयन करें-

- Ans A. महत्त्व का कोई अर्थ भाषा के अभाव में नहीं है।
 B. अर्थ के अभाव में भाषा का कोई महत्त्व नहीं है।
 C. कोई अर्थ के अभाव में महत्त्व भाषा का नहीं है।
 D. भाषा का कोई अर्थ महत्त्व के अभाव में नहीं है।

Question ID : 630680176191
Status : Answered
Chosen Option : B

Q.7 'कूड़े पर धूल डालना' - इस मुहावरे का रेखांकित अंश अशुद्ध है। सही भाग का चयन करें-

- Ans
- A. खाना डालना
 - B. मिट्टी डालना
 - C. पानी डालना
 - D. गुलाब डालना

Question ID : 630680176187

Status : Answered

Chosen Option : B

Q.8 'भक्त प्रह्लाद ने हिरण्यकश्यप राक्षस का वध किया था।' - इस वाक्य के रेखांकित भाग में वर्तनी सम्बन्धी अशुद्धि है। शुद्ध भाग का चयन करें-

- Ans
- A. भक्त प्रह्लाद ने हिरणाकशिपु राक्षस
 - B. भक्त प्रह्लाद ने हिरण्यकश्यपु राक्षस
 - C. भक्त प्रह्लाद ने हिरण्यकश्यपु राक्षस
 - D. भक्त प्रह्लाद ने हिरण्यकशिपु राक्षस

Question ID : 630680176185

Status : Answered

Chosen Option : C

Q.9 निम्नलिखित वाक्य-खण्डों को शुद्ध क्रम में व्यवस्थित करें-
आज राष्ट्रधर्म विषयक,
प्रणव मुखर्जी,
भारत के राष्ट्रपति,
भाषण करेंगे

- Ans
- A. प्रणव मुखर्जी भारत के राष्ट्रपति आज राष्ट्रधर्म विषयक भाषण करेंगे
 - B. प्रणव मुखर्जी भारत के राष्ट्रपति करेंगे भाषण आज राष्ट्रधर्म विषयक
 - C. आज राष्ट्रधर्म विषयक भारत के राष्ट्रपति प्रणव मुखर्जी भाषण करेंगे
 - D. भारत के राष्ट्रपति प्रणव मुखर्जी आज राष्ट्रधर्म विषयक भाषण करेंगे

Question ID : 630680176194

Status : Answered

Chosen Option : D

Q.10 रेखांकित वाक्यांश को एक उपयुक्त शब्द से प्रतिस्थापित करें -
यह अंग्रेजी से हिन्दी में अनुवाद किया हुआ ग्रन्थ है।'

- Ans
- A. अनुवादित
 - B. अनुवादक
 - C. अनुसारित
 - D. अनूदित

Question ID : 630680176195

Status : Answered

Chosen Option : A

Q.11 निम्नलिखित खण्डों के उचित क्रम का चयन कर सही लोकोक्ति की पहचान करें-
कभी मुट्टी चना,
कभी वो भी मना,
कभी घी घना

- Ans A. कभी वो भी मना, कभी मुट्टी चना, कभी घी घना
 B. कभी घी घना, कभी मुट्टी चना, कभी वो भी मना
 C. कभी मुट्टी चना, कभी घी घना, कभी वो भी मना
 D. कभी घी घना, कभी वो भी मना, कभी मुट्टी चना,

Question ID : 630680176189

Status : Answered

Chosen Option : B

Q.12 'वह अपने तिरस्कार को _____।' - 'संदिग्ध भूत काल की क्रिया का चयन करके रिक्त स्थान की पूर्ति करें-

- Ans A. भूल चुका होगा
 B. भूल चुका होता
 C. भूल चुका है
 D. भूल चुका था

Question ID : 630680176197

Status : Answered

Chosen Option : A

Q.13 निम्नलिखित में से 'विरति' शब्द के पर्यायवाची का चयन करें-

- Ans A. जुगुप्सा
 B. आत्मा
 C. कर्मठता
 D. हिम्मत

INDIA

Question ID : 630680176182

Status : Answered

Chosen Option : B

Q.14 निम्नलिखित वाक्यांश को एक उपयुक्त शब्द से प्रतिस्थापित करें -
'बहुत धनी होने पर भी कम खर्च करने वाला व्यक्ति'

- Ans A. विद्वान
 B. यक्षवित
 C. मुक्तहस्त
 D. यति

Question ID : 630680176196

Status : Answered

Chosen Option : B

Q.15 उचित शब्द चुनकर वाक्य में रिक्त स्थान की पूर्ति करें-
'उनके रहन-सहन का ____ ऊँचा है।'

- Ans A. श्रेणी
 B. स्थिति
 C. स्तर
 D. कोटि

Question ID : 630680176192
Status : Answered
Chosen Option : C

Q.16 'अपने पिता से बिछड़ने पर पुत्री के आँसू _____।' - 'नामधातु क्रिया' युक्त वाक्यांश चुनकर उक्त वाक्य पूर्ण करें-

- Ans A. आने लगे
 B. गिरने लगे
 C. बह उठे
 D. छलछला गए

Question ID : 630680176200
Status : Answered
Chosen Option : B

Q.17 उपयुक्त विकल्प चुनकर 'सम्प्रदान कारक' में वाक्य पूर्ण करें-
'माँ ने बाज़ार से आकर _____।'

- Ans A. बच्चे को बुलाया
 B. बच्चे को खेलते देखा
 C. बच्चे को खिलौने दिए
 D. बच्चे को मारा

Question ID : 630680176199
Status : Answered
Chosen Option : C

Q.18 मैं अपने बगीचे में _____।' तात्कालिक वर्तमान काल की क्रिया चुनकर वाक्य पूर्ण करें-

- Ans A. खड़ी रहूँगी
 B. खड़ी हूँ
 C. खड़ी रहती हूँ
 D. खड़ी रही हूँ

Question ID : 630680176198
Status : Answered
Chosen Option : B

Q.19 निम्नलिखित शब्दों में से 'सुषुप्ति' शब्द के विलोमार्थी का चयन करें-

- Ans A. दुष्कृत
 B. जागरण
 C. अनभिज्ञ
 D. सुतली

Question ID : 630680176183

Status : Answered

Chosen Option : B

Q.20 निम्नलिखित में से शुद्ध पदक्रम वाले वाक्य का चयन करें-

- Ans A. संगति पर मनुष्य का प्रभाव पड़ता है बहुत ज्यादा।
 B. संगति का प्रभाव बहुत ज्यादा मनुष्य पर पड़ता है।
 C. मनुष्य पर संगति का प्रभाव बहुत ज्यादा पड़ता है।
 D. संगति का प्रभाव बहुत मनुष्य पर ज्यादा पड़ता है।

Question ID : 630680176190

Status : Answered

Chosen Option : C

Comprehension:

निम्नलिखित गद्यांश के आधार पर प्रश्न के उत्तर दीजिए।

'एक साधारण किसान से लेकर बड़े-बड़े विज्ञान-वेत्ताओं तक की सफलता का मूल कारण परिश्रम ही है। जो कार्य बड़े कठोर, भयंकर दिखाई देते हैं, परिश्रम रूपी मंत्र से, उन सबके आगे असफलता का भूत टिक ही नहीं सकता। जो परिश्रम के लिए कमर कस लेता है, उसकी विजय होने में कोई संदेह नहीं रह सकता। सफलता रूपी विजय-शक्ति चाहे कहीं भी छिपी हो, उसे परिश्रमी व्यक्ति के पास आना ही पड़ता है। प्रभु भी परिश्रमी की ही सहायता करता है। पूरे मनोयोग से किया हुआ परिश्रम मनुष्य को अपने ध्येय तक पहुँचा देता है। गेहूँ आदि उपजाने के लिए किसान को कितना कठोर परिश्रम करना पड़ता है। इसी प्रकार ज्ञान और विज्ञान के कार्यों में भी परिश्रम का ही पूरा हाथ है। एक विज्ञानवेत्ता को नई खोज करने के लिए कितना परिश्रम करना पड़ता है; ना रात का पता, न दिन का, न भूख का, न प्यास का। जब उसे अपने कार्य में सफलता मिल जाती है तो उसके आनंद का ठिकाना नहीं रहता। विद्यार्थी जीवन की ओर दृष्टि दौड़ाएँ तो उसमें भी यही सार है। परीक्षा सर पर आती है तो परीक्षार्थी को कुछ नहीं सूझता। वह अपना सारा आराम और सुख की नींद छोड़कर, मस्तिष्क के द्वार खोलकर, कठिन परिश्रम के लिए कटिबद्ध हो जाता है। पूरे दिल से परिश्रम करके परीक्षा देता है। तब उसको आत्मविश्वास होता है कि उसके पास एक ऐसी कुंजी है जिसके द्वारा उसने सफलता रूपी मंदिर का द्वार खोल कर, उस अक्षय भंडार के दर्शन कर लिए हैं जो कि कभी कम नहीं होता। परिश्रम करने से उसमें से न जाने कितने अमूल्य रत्न प्राप्त हो सकते हैं। सचमुच इसी परिश्रम रूपी कुंजी को लेकर मनुष्य उस भव्य प्रासाद के ताले खोल सकता है जिस में न जाने कितनी अमूल्य निधियाँ भरी पड़ी हैं।'

SubQuestion No : 21

Q.21 गद्यांश में प्रयुक्त शब्द 'ध्येय' के पर्यायवाची का चयन कीजिए-

- Ans A. वंचना
 B. पद्धति
 C. लक्ष्य
 D. परीक्षण

Question ID : 630680176202

Status : Answered

Chosen Option : C

Comprehension:

निम्नलिखित गद्यांश के आधार पर प्रश्न के उत्तर दीजिए।

‘एक साधारण किसान से लेकर बड़े-बड़े विज्ञान-वेत्ताओं तक की सफलता का मूल कारण परिश्रम ही है। जो कार्य बड़े कठोर, भयंकर दिखाई देते हैं, परिश्रम रूपी मंत्र से, उन सबके आगे असफलता का भूत टिक ही नहीं सकता। जो परिश्रम के लिए कमर कस लेता है, उसकी विजय होने में कोई संदेह नहीं रह सकता। सफलता रूपी विजय-शक्ति चाहे कहीं भी छिपी हो, उसे परिश्रमी व्यक्ति के पास आना ही पड़ता है। प्रभु भी परिश्रमी की ही सहायता करता है। पूरे मनोयोग से किया हुआ परिश्रम मनुष्य को अपने ध्येय तक पहुँचा देता है। गेहूँ आदि उपजाने के लिए किसान को कितना कठोर परिश्रम करना पड़ता है। इसी प्रकार ज्ञान और विज्ञान के कार्यों में भी परिश्रम का ही पूरा हाथ है। एक विज्ञानवेत्ता को नई खोज करने के लिए कितना परिश्रम करना पड़ता है; ना रात का पता, न दिन का, न भूख का, न प्यास का। जब उसे अपने कार्य में सफलता मिल जाती है तो उसके आनंद का ठिकाना नहीं रहता। विद्यार्थी जीवन की ओर दृष्टि दौड़ाएँ तो उसमें भी यही सार है। परीक्षा सर पर आती है तो परीक्षार्थी को कुछ नहीं सूझता। वह अपना सारा आराम और सुख की नींद छोड़कर, मस्तिष्क के द्वार खोलकर, कठिन परिश्रम के लिए कटिबद्ध हो जाता है। पूरे दिल से परिश्रम करके परीक्षा देता है। तब उसको आत्मविश्वास होता है कि उसके पास एक ऐसी कुंजी है जिसके द्वारा उसने सफलता रूपी मंदिर का द्वार खोल कर, उस अक्षय भंडार के दर्शन कर लिए हैं जो कि कभी कम नहीं होता। परिश्रम करने से उसमें से न जाने कितने अमूल्य रत्न प्राप्त हो सकते हैं। सचमुच इसी परिश्रम रूपी कुंजी को लेकर मनुष्य उस भव्य प्रासाद के ताले खोल सकता है जिस में न जाने कितनी अमूल्य निधियाँ भरी पड़ी हैं।’

SubQuestion No : 22

Q.22 गद्यांश वास्तविक जीवन से किस प्रकार संबन्धित है?

- Ans
- A. यह केवल विद्यार्थी-जीवन से सम्बंधित तथ्य है
 - B. गेहूँ आदि उपजाने के लिए किसान को कितना कठोर परिश्रम करना पड़ता है।
 - C. यह जीवन की वास्तविकता है कि अपने लक्ष्य को पाने के लिए परिश्रम के सिवा अन्य कोई रास्ता नहीं है।
 - D. यह सत्य है कि एक विज्ञानवेत्ता को नई खोज करने के लिए खाना-पीना त्यागना पड़ता है

Question ID : 630680176206

Status : Answered

Chosen Option : C

Comprehension:

निम्नलिखित गद्यांश के आधार पर प्रश्न के उत्तर दीजिए।

‘एक साधारण किसान से लेकर बड़े-बड़े विज्ञान-वेत्ताओं तक की सफलता का मूल कारण परिश्रम ही है। जो कार्य बड़े कठोर, भयंकर दिखाई देते हैं, परिश्रम रूपी मंत्र से, उन सबके आगे असफलता का भूत टिक ही नहीं सकता। जो परिश्रम के लिए कमर कस लेता है, उसकी विजय होने में कोई संदेह नहीं रह सकता। सफलता रूपी विजय-शक्ति चाहे कहीं भी छिपी हो, उसे परिश्रमी व्यक्ति के पास आना ही पड़ता है। प्रभु भी परिश्रमी की ही सहायता करता है। पूरे मनोयोग से किया हुआ परिश्रम मनुष्य को अपने ध्येय तक पहुँचा देता है। गेहूँ आदि उपजाने के लिए किसान को कितना कठोर परिश्रम करना पड़ता है। इसी प्रकार ज्ञान और विज्ञान के कार्यों में भी परिश्रम का ही पूरा हाथ है। एक विज्ञानवेत्ता को नई खोज करने के लिए कितना परिश्रम करना पड़ता है; ना रात का पता, न दिन का, न भूख का, न प्यास का। जब उसे अपने कार्य में सफलता मिल जाती है तो उसके आनंद का ठिकाना नहीं रहता। विद्यार्थी जीवन की ओर दृष्टि दौड़ाएँ तो उसमें भी यही सार है। परीक्षा सर पर आती है तो परीक्षार्थी को कुछ नहीं सूझता। वह अपना सारा आराम और सुख की नींद छोड़कर, मस्तिष्क के द्वार खोलकर, कठिन परिश्रम के लिए कटिबद्ध हो जाता है। पूरे दिल से परिश्रम करके परीक्षा देता है। तब उसको आत्मविश्वास होता है कि उसके पास एक ऐसी कुंजी है जिसके द्वारा उसने सफलता रूपी मंदिर का द्वार खोल कर, उस अक्षय भंडार के दर्शन कर लिए हैं जो कि कभी कम नहीं होता। परिश्रम करने से उसमें से न जाने कितने अमूल्य रत्न प्राप्त हो सकते हैं। सचमुच इसी परिश्रम रूपी कुंजी को लेकर मनुष्य उस भव्य प्रासाद के ताले खोल सकता है जिस में न जाने कितनी अमूल्य निधियाँ भरी पड़ी हैं।’

SubQuestion No : 23

Q.23 किस उदाहरण में गद्यांश में प्रयुक्त शब्द ‘कटिबद्ध’ का उचित प्रयोग किया गया है?

- Ans
- A. जब अपने कार्य में सफलता मिल जाती है तो व्यक्ति बिलकुल कटिबद्ध हो उठता है।
 - B. कठिन परिश्रम के लिए कटिबद्ध होकर ही सफलता प्राप्त होती है।
 - C. परिश्रम के भव्य प्रासाद में कटिबद्ध रूपी निधियाँ भरी पड़ी हैं।
 - D. तुम कटिबद्ध लेकर सभी कार्य कर सकते हो।

Question ID : 630680176203

Status : Answered

Chosen Option : C

Comprehension:

निम्नलिखित गद्यांश के आधार पर प्रश्न के उत्तर दीजिए।

‘एक साधारण किसान से लेकर बड़े-बड़े विज्ञान-वेत्ताओं तक की सफलता का मूल कारण परिश्रम ही है। जो कार्य बड़े कठोर, भयंकर दिखाई देते हैं, परिश्रम रूपी मंत्र से, उन सबके आगे असफलता का भूत टिक ही नहीं सकता। जो परिश्रम के लिए कमर कस लेता है, उसकी विजय होने में कोई संदेह नहीं रह सकता। सफलता रूपी विजय-शक्ति चाहे कहीं भी छिपी हो, उसे परिश्रमी व्यक्ति के पास आना ही पड़ता है। प्रभु भी परिश्रमी की ही सहायता करता है। पूरे मनोयोग से किया हुआ परिश्रम मनुष्य को अपने ध्येय तक पहुँचा देता है। गेहूँ आदि उपजाने के लिए किसान को कितना कठोर परिश्रम करना पड़ता है। इसी प्रकार ज्ञान और विज्ञान के कार्यों में भी परिश्रम का ही पूरा हाथ है। एक विज्ञानवेत्ता को नई खोज करने के लिए कितना परिश्रम करना पड़ता है; ना रात का पता, न दिन का, न भूख का, न प्यास का। जब उसे अपने कार्य में सफलता मिल जाती है तो उसके आनंद का ठिकाना नहीं रहता। विद्यार्थी जीवन की ओर दृष्टि दौड़ाएँ तो उसमें भी यही सार है। परीक्षा सर पर आती है तो परीक्षार्थी को कुछ नहीं सूझता। वह अपना सारा आराम और सुख की नींद छोड़कर, मस्तिष्क के द्वार खोलकर, कठिन परिश्रम के लिए कटिबद्ध हो जाता है। पूरे दिल से परिश्रम करके परीक्षा देता है। तब उसको आत्मविश्वास होता है कि उसके पास एक ऐसी कुंजी है जिसके द्वारा उसने सफलता रूपी मंदिर का द्वार खोल कर, उस अक्षय भंडार के दर्शन कर लिए हैं जो कि कभी कम नहीं होता। परिश्रम करने से उसमें से न जाने कितने अमूल्य रत्न प्राप्त हो सकते हैं। सचमुच इसी परिश्रम रूपी कुंजी को लेकर मनुष्य उस भव्य प्रासाद के ताले खोल सकता है जिस में न जाने कितनी अमूल्य निधियाँ भरी पड़ी हैं।’

SubQuestion No : 24

Q.24 गद्यांश के लिए सर्वाधिक उपयुक्त शीर्षक का चयन करें-

- Ans
- A. परिश्रम भव्य प्रासाद की कुंजी है
 - B. आत्मविश्वास का फल
 - C. वैज्ञानिक और किसान की सफलता का रहस्य
 - D. परिश्रम ही सफलता की कुंजी है

Question ID : 630680176204

Status : Answered

Chosen Option : D

Comprehension:

निम्नलिखित गद्यांश के आधार पर प्रश्न के उत्तर दीजिए।

‘एक साधारण किसान से लेकर बड़े-बड़े विज्ञान-वेत्ताओं तक की सफलता का मूल कारण परिश्रम ही है। जो कार्य बड़े कठोर, भयंकर दिखाई देते हैं, परिश्रम रूपी मंत्र से, उन सबके आगे असफलता का भूत टिक ही नहीं सकता। जो परिश्रम के लिए कमर कस लेता है, उसकी विजय होने में कोई संदेह नहीं रह सकता। सफलता रूपी विजय-शक्ति चाहे कहीं भी छिपी हो, उसे परिश्रमी व्यक्ति के पास आना ही पड़ता है। प्रभु भी परिश्रमी की ही सहायता करता है। पूरे मनोयोग से किया हुआ परिश्रम मनुष्य को अपने ध्येय तक पहुँचा देता है। गेहूँ आदि उपजाने के लिए किसान को कितना कठोर परिश्रम करना पड़ता है। इसी प्रकार ज्ञान और विज्ञान के कार्यों में भी परिश्रम का ही पूरा हाथ है। एक विज्ञानवेत्ता को नई खोज करने के लिए कितना परिश्रम करना पड़ता है; ना रात का पता, न दिन का, न भूख का, न प्यास का। जब उसे अपने कार्य में सफलता मिल जाती है तो उसके आनंद का ठिकाना नहीं रहता। विद्यार्थी जीवन की ओर दृष्टि दौड़ाएँ तो उसमें भी यही सार है। परीक्षा सर पर आती है तो परीक्षार्थी को कुछ नहीं सूझता। वह अपना सारा आराम और सुख की नींद छोड़कर, मस्तिष्क के द्वार खोलकर, कठिन परिश्रम के लिए कटिबद्ध हो जाता है। पूरे दिल से परिश्रम करके परीक्षा देता है। तब उसको आत्मविश्वास होता है कि उसके पास एक ऐसी कुंजी है जिसके द्वारा उसने सफलता रूपी मंदिर का द्वार खोल कर, उस अक्षय भंडार के दर्शन कर लिए हैं जो कि कभी कम नहीं होता। परिश्रम करने से उसमें से न जाने कितने अमूल्य रत्न प्राप्त हो सकते हैं। सचमुच इसी परिश्रम रूपी कुंजी को लेकर मनुष्य उस भव्य प्रासाद के ताले खोल सकता है जिस में न जाने कितनी अमूल्य निधियाँ भरी पड़ी हैं।’

SubQuestion No : 25

Q.25 गद्यांश के केंद्रीय विषय की पहचान कीजिए-

- Ans
- A. विद्यार्थी जीवन का सार
 - B. जीवन के लिए साहस
 - C. आत्मविश्वास का सफलता से सम्बन्ध
 - D. परिश्रम का सफलता से अटूट सम्बन्ध

Question ID : 630680176205

Status : Answered

Chosen Option : D

Q.1 Select the most appropriate homonym for the underlined word in the following sentence.
Police were reported to have ceased all copies of this morning's edition of the newspaper.

- Ans
- A. Squeezed
 - B. Wheezed
 - C. Pleased
 - D. Seized

Question ID : 630680176208
Status : Not Answered
Chosen Option : --

Q.2 Select the most appropriate option that can substitute the underlined segment in the given sentence.

After the operation, you do not do any sport for a while.

- Ans
- A. would not do
 - B. won't be doing
 - C. will be doing
 - D. shall do not

Question ID : 630680176224
Status : Not Answered
Chosen Option : --

Q.3 Select the most appropriate meaning of the underlined phrase.
She wanted to buy a new pair of shoes in case someone asked her to the dance, but I told her not to count chickens before they hatch.

- Ans
- A. Don't interfere in someone else's matter.
 - B. Don't make plans based on events that have not yet happened.
 - C. Don't be upset over a thing that has already happened.
 - D. Don't follow local customs when you visit a place.

Question ID : 630680176211
Status : Not Answered
Chosen Option : --

Q.4 Select the most appropriate option that can substitute the underlined segment in the given sentence.

I have heard a lot of good reports about your work these days.

- Ans
- A. I should have hear
 - B. I am hearing
 - C. I will hear
 - D. I shall hear

Question ID : 630680176226
Status : Not Answered
Chosen Option : --

Q.5 Select the most appropriate synonym of the given word.
Profuse

- Ans A. Abundant
 B. Scant
 C. Diminutive
 D. Frugal

Question ID : 630680176209
Status : Not Answered
Chosen Option : --

Q.6 Select the most appropriate option to fill in the blank.
A man's first care should be to avoid the _____ of his own heart.

- Ans A. guardian
 B. circumstance
 C. reproaches
 D. mislead

Question ID : 630680176216
Status : Not Answered
Chosen Option : --

Q.7 Sentences of a paragraph are given below in jumbled order. Arrange the sentences in the correct order to form a meaningful and coherent paragraph.
A: Poetry is the universal language that the heart holds with nature and itself.
B: It relates to whatever gives immediate pleasure or pain to the human mind.
C: He who has a contempt for poetry cannot have much respect for himself or for anything else.
D: Poetry is the language of the imagination and passions.
E: Wherever there is a sense of beauty or power, or harmony, as in the motion of a wave of the sea, in the growth of a flower, there is poetry in its birth.
F: It comes home to the blossoms and businesses of men; for nothing but what comes home to them in the most general and intelligible shape can be a subject for poetry.

- Ans A. DFBCEA
 B. DBFACE
 C. BEDFAC
 D. ADCBFE

Question ID : 630680176214
Status : Not Answered
Chosen Option : --

Q.8 Select the most appropriate idiom that can substitute the underlined segment in the given sentence.
The accountant at the store, having admitted defalcation, was handed over to the police.

- Ans A. crow over
 B. cut him off
 C. currying favour
 D. given in charge

Question ID : 630680176210
Status : Not Answered
Chosen Option : --

Q.9 Select the most appropriate option that can substitute the underlined segment in the given sentence.

He will succeed to the title in the event of the death of his big brother.

- Ans
- A. tall brother
 - B. elder brother
 - C. eldest brother
 - D. bigger brother

Question ID : 630680176220
Status : Not Answered
Chosen Option : --

Q.10 Select the option that can be used as a one-word substitute of the underlined segment.
A world annual calendar that contains important dates and time is useful for learning basic facts and recurring yearly events in countries, newsmakers and celebrities.

- Ans
- A. diary
 - B. almanac
 - C. dictionary
 - D. journal

Question ID : 630680176217
Status : Not Answered
Chosen Option : --

Q.11 Select the correctly spelt word.

- Ans
- A. Saporate
 - B. Saparete
 - C. Separate
 - D. Sparte

INDIA

Question ID : 630680176212
Status : Not Answered
Chosen Option : --

Q.12 Select the option that can be used as a one-word substitute of the underlined segment.
The last thing the owner of the place to play games and bet on them wants is a patron who leaves to go do something else.

- Ans
- A. casino
 - B. hub
 - C. café
 - D. club

Question ID : 630680176218
Status : Not Answered
Chosen Option : --

Q.13 Select the most appropriate option to fill in the blank.
He deserved to _____, for he worked hard.

- Ans
- A. strain
 - B. wish
 - C. credit
 - D. succeed

Question ID : 630680176215
Status : Not Answered
Chosen Option : --

Q.14 Select the most appropriate article to fill in the blank. In case no article is needed, select 'No article required'.
Jun Hertz was _____ citizen of credit and renown.

- Ans
- A. the
 - B. a
 - C. an
 - D. No article required

Question ID : 630680176223
Status : Not Answered
Chosen Option : --

Q.15 Select the most appropriate option that can substitute the underlined segment in the given sentence.
We met the other day, but he did not referred to the matter.

- Ans
- A. ever
 - B. not
 - C. never
 - D. would not

INDIA

Question ID : 630680176221
Status : Not Answered
Chosen Option : --

Q.16 Select the most appropriate option to fill in the blanks.
They all ran after _____ farmer's wife, who cut off their tails with _____ carving knife.

- Ans
- A. a; a
 - B. the; a
 - C. the; the
 - D. a; the

Question ID : 630680176222
Status : Not Answered
Chosen Option : --

Q.17 Select the most appropriate ANTONYM of the underlined word in the following sentence.
No amount of time on the treadmill can assist eating a triple-cheese pizza every day.

- Ans
- A. Advise
 - B. Sustain
 - C. Counteract
 - D. Aid

Question ID : 630680176207
Status : Not Answered
Chosen Option : --

Q.18 Select the most appropriate option that can substitute the underlined word in the given sentence.

When I was younger, I play badminton for my local team.

- Ans
- A. I played
 - B. will be playing
 - C. am playing
 - D. hall play

Question ID : 630680176225
Status : Not Answered
Chosen Option : --

Q.19 Select the option that can be used as a one-word substitute of the underlined segment.
The Instagram photo of the one who has a keen interest in food and drinks steak dinner comes with a whiff of buttery mashed potatoes.

- Ans
- A. kitchen
 - B. gourmet
 - C. saffron
 - D. patisserie

INDIA

Question ID : 630680176219
Status : Not Answered
Chosen Option : --

Q.20 Select the correctly spelt word.

- Ans
- A. Apparently
 - B. Aparantly
 - C. Aparently
 - D. Aparrently

Question ID : 630680176213
Status : Not Answered
Chosen Option : --

Comprehension:

Read the given passage and answer the questions that follow.


The stamp is to many people just a slip of paper that takes a letter from one town of the country to another. They are unable to understand why we stamp collectors find so much pleasure in collecting them and how we find the time in which to indulge in our hobby. To them, it seems a waste of time, a waste of effort and a waste of money. But they do not realise that there are many who do buy stamps, many who find the effort worthwhile and many who, if they did not spend their time collecting stamps, would spend it less profitably. We all seek something to do in our leisure hours, and what better occupation is there to keep us out of mischief than that of collecting stamps? An album, a packet of hinges and a new supply of stamps in the time pass swiftly and pleasantly.

Stamp collecting has no limits, and a collection never has ended. Countries are always printing and issuing new stamps to celebrate coronations, great events, anniversaries and deaths, and the fascination of collecting is trying to obtain the stamps before one's rivals. Every sphere of stamp collecting has its fascination with receiving letters from distant countries and discovering old stamps in the leaves of dusty old books. The stamp itself has a fascination all its own. Gazing at its little picture, we are transported to the wilds of Congo, the homes of the Arabs and the endless tracks of the Sahara Desert. There is a history in every stamp of the ancient Roman empire and the constitution of America. India's Independence and the allied victory are all conveyed to our mind's eye by means of stamps. We see famous men, pictures of writers, soldiers, politicians, and famous incidents on stamps so small and minute containing knowledge that is vast and important.

SubQuestion No : 21

Q.21 Which of the following inferences drawn about this passage is wrong?

- Ans A. The fascination of collecting is trying to obtain these stamps before one's rivals.
- B. There is a history in every stamp.
- C. Stamps could be a disorderly market because they have no intrinsic value.
- D. Stamp collection is more than just a hobby for many people.



Question ID : 630680176232

Status : Not Answered

Chosen Option : --

Comprehension:

Read the given passage and answer the questions that follow.


The stamp is to many people just a slip of paper that takes a letter from one town of the country to another. They are unable to understand why we stamp collectors find so much pleasure in collecting them and how we find the time in which to indulge in our hobby. To them, it seems a waste of time, a waste of effort and a waste of money. But they do not realise that there are many who do buy stamps, many who find the effort worthwhile and many who, if they did not spend their time collecting stamps, would spend it less profitably. We all seek something to do in our leisure hours, and what better occupation is there to keep us out of mischief than that of collecting stamps? An album, a packet of hinges and a new supply of stamps in the time pass swiftly and pleasantly.

Stamp collecting has no limits, and a collection never has ended. Countries are always printing and issuing new stamps to celebrate coronations, great events, anniversaries and deaths, and the fascination of collecting is trying to obtain the stamps before one's rivals. Every sphere of stamp collecting has its fascination with receiving letters from distant countries and discovering old stamps in the leaves of dusty old books. The stamp itself has a fascination all its own. Gazing at its little picture, we are transported to the wilds of Congo, the homes of the Arabs and the endless tracks of the Sahara Desert. There is a history in every stamp of the ancient Roman empire and the constitution of America. India's Independence and the allied victory are all conveyed to our mind's eye by means of stamps. We see famous men, pictures of writers, soldiers, politicians, and famous incidents on stamps so small and minute containing knowledge that is vast and important.

SubQuestion No : 22

Q.22 Choose the option that best suits the title of the passage.

- Ans A. History of stamps
 B. Supply of stamps
 C. Occupation of mischief
 D. Stamp collecting



Question ID : 630680176228

Status : Not Answered

Chosen Option : --

Comprehension:

Read the given passage and answer the questions that follow.

The stamp is to many people just a slip of paper that takes a letter from one town of the country to another. They are unable to understand why we stamp collectors find so much pleasure in collecting them and how we find the time in which to indulge in our hobby. To them, it seems a waste of time, a waste of effort and a waste of money. But they do not realise that there are many who do buy stamps, many who find the effort worthwhile and many who, if they did not spend their time collecting stamps, would spend it less profitably. We all seek something to do in our leisure hours, and what better occupation is there to keep us out of mischief than that of collecting stamps? An album, a packet of hinges and a new supply of stamps in the time pass swiftly and pleasantly.

Stamp collecting has no limits, and a collection never has ended. Countries are always printing and issuing new stamps to celebrate coronations, great events, anniversaries and deaths, and the fascination of collecting is trying to obtain the stamps before one's rivals. Every sphere of stamp collecting has its fascination with receiving letters from distant countries and discovering old stamps in the leaves of dusty old books. The stamp itself has a fascination all its own. Gazing at its little picture, we are transported to the wilds of Congo, the homes of the Arabs and the endless tracks of the Sahara Desert. There is a history in every stamp of the ancient Roman empire and the constitution of America. India's Independence and the allied victory are all conveyed to our mind's eye by means of stamps. We see famous men, pictures of writers, soldiers, politicians, and famous incidents on stamps so small and minute containing knowledge that is vast and important.

SubQuestion No : 23

Q.23 What is the main reason for collecting stamps?

- Ans
- A. To keep us busy
 - B. To help in supplying stamps
 - C. To pass away the time swiftly and pleasantly
 - D. Helps instruct the collector in geography, history, culture and art



Question ID : 630680176229

Status : Not Answered

Chosen Option : --

Comprehension:

Read the given passage and answer the questions that follow.


The stamp is to many people just a slip of paper that takes a letter from one town of the country to another. They are unable to understand why we stamp collectors find so much pleasure in collecting them and how we find the time in which to indulge in our hobby. To them, it seems a waste of time, a waste of effort and a waste of money. But they do not realise that there are many who do buy stamps, many who find the effort worthwhile and many who, if they did not spend their time collecting stamps, would spend it less profitably. We all seek something to do in our leisure hours, and what better occupation is there to keep us out of mischief than that of collecting stamps? An album, a packet of hinges and a new supply of stamps in the time pass swiftly and pleasantly.

Stamp collecting has no limits, and a collection never has ended. Countries are always printing and issuing new stamps to celebrate coronations, great events, anniversaries and deaths, and the fascination of collecting is trying to obtain the stamps before one's rivals. Every sphere of stamp collecting has its fascination with receiving letters from distant countries and discovering old stamps in the leaves of dusty old books. The stamp itself has a fascination all its own. Gazing at its little picture, we are transported to the wilds of Congo, the homes of the Arabs and the endless tracks of the Sahara Desert. There is a history in every stamp of the ancient Roman empire and the constitution of America. India's Independence and the allied victory are all conveyed to our mind's eye by means of stamps. We see famous men, pictures of writers, soldiers, politicians, and famous incidents on stamps so small and minute containing knowledge that is vast and important.

SubQuestion No : 24

Q.24 On what occasions are stamps printed and issued?

- Ans
- A. To acknowledge any incident not so worthy
 - B. While receiving letters
 - C. While printing notes
 - D. To celebrate coronations and great events



Question ID : 630680176230

Status : Not Answered

Chosen Option : --

Comprehension:

Read the given passage and answer the questions that follow.


The stamp is to many people just a slip of paper that takes a letter from one town of the country to another. They are unable to understand why we stamp collectors find so much pleasure in collecting them and how we find the time in which to indulge in our hobby. To them, it seems a waste of time, a waste of effort and a waste of money. But they do not realise that there are many who do buy stamps, many who find the effort worthwhile and many who, if they did not spend their time collecting stamps, would spend it less profitably. We all seek something to do in our leisure hours, and what better occupation is there to keep us out of mischief than that of collecting stamps? An album, a packet of hinges and a new supply of stamps in the time pass swiftly and pleasantly.

Stamp collecting has no limits, and a collection never has ended. Countries are always printing and issuing new stamps to celebrate coronations, great events, anniversaries and deaths, and the fascination of collecting is trying to obtain the stamps before one's rivals. Every sphere of stamp collecting has its fascination with receiving letters from distant countries and discovering old stamps in the leaves of dusty old books. The stamp itself has a fascination all its own. Gazing at its little picture, we are transported to the wilds of Congo, the homes of the Arabs and the endless tracks of the Sahara Desert. There is a history in every stamp of the ancient Roman empire and the constitution of America. India's Independence and the allied victory are all conveyed to our mind's eye by means of stamps. We see famous men, pictures of writers, soldiers, politicians, and famous incidents on stamps so small and minute containing knowledge that is vast and important.

SubQuestion No : 25

Q.25 Select the most appropriate synonym of the given word.
Swiftly

- Ans
- A. Successively
 - B. Briskly
 - C. Steadily
 - D. continuously



Question ID : 630680176231

Status : Not Answered

Chosen Option : --

Section : General Aptitude

Q.1 निम्नलिखित में से किस शासक ने 1266 और 1287 के बीच दिल्ली सल्तनत पर शासन किया था?

- Ans
- A. गयासुद्दीन बलबन
 - B. शम्सुद्दीन इल्तुतमिश
 - C. कुतुबुद्दीन ऐबक
 - D. रज़िया

Question ID : 630680176240

Status : Answered

Chosen Option : A

Q.2 सर्वोच्च न्यायालय को अपने द्वारा सुनाए गए किसी भी निर्णय या दिए गए आदेश की पुनर्विलोकन करने की शक्ति है - इसकी चर्चा भारत के संविधान के निम्नलिखित में से किस अनुच्छेद में की गई है?

- Ans A. अनुच्छेद 137
 B. अनुच्छेद 135
 C. अनुच्छेद 138
 D. अनुच्छेद 136

Question ID : 630680176257
Status : Answered
Chosen Option : A

Q.3 सूर्यकुमार यादव को आईसीआईसीआई प्रूडेंशियल लाइफ इंश्योरेंस (ICICI Prudential Life Insurance) ने अपने '360 डिग्री वित्तीय सुरक्षा अभियान (360 degree financial protection campaign)' के लिए साइन किया था। वह किस खेल से संबंधित है?

- Ans A. टेनिस
 B. क्रिकेट
 C. कबड्डी
 D. हेन्डबॉल

Question ID : 630680176249
Status : Answered
Chosen Option : B

Q.4 निम्नलिखित में से कौन-सा भारतीय शहर पहली बार, फॉर्मूला ई वर्ल्ड चैंपियनशिप रेस (Formula E World Championship race) की मेजबानी करेगा?

- Ans A. कलकत्ता
 B. चेन्नई
 C. लखनऊ
 D. हैदराबाद

INDIA

Question ID : 630680176239
Status : Answered
Chosen Option : C

Q.5 जातीय एवं आर्थिक जनगणना-2023 (Caste and Economic Census-2023) किस राज्य में शुरू की गई थी?

- Ans A. गुजरात
 B. उत्तर प्रदेश
 C. राजस्थान
 D. बिहार

Question ID : 630680176251
Status : Answered
Chosen Option : B

Q.6 निम्नलिखित में से किस शब्द को कला नियतांक (constant phase) की सतह के रूप में परिभाषित किया गया है?

- Ans
- A. परावर्तन (Reflection)
 - B. शिखर (Crest)
 - C. अपवर्तन (Refraction)
 - D. तरंगाग्र (Wavefront)

Question ID : 630680176254
Status : Answered
Chosen Option : A

Q.7 दुहा और सोरठा (Doha and Sortha) निम्नलिखित में से किस राज्य के लोकगीत के प्रकार हैं? यह पारंपरिक रूप से सौराष्ट्र क्षेत्र में प्रदर्शित किया जाता है।

- Ans
- A. हरियाणा
 - B. आंध्र प्रदेश
 - C. गुजरात
 - D. तमिलनाडु

Question ID : 630680176247
Status : Answered
Chosen Option : C

Q.8 KFON का उद्देश्य एक कोर नेटवर्क इंफ्रास्ट्रक्चर (core network infrastructure) बनाना है, जो 20 लाख आर्थिक रूप से पिछड़े परिवारों को मुफ्त इंटरनेट की सुविधा प्रदान करेगा। KFON का पूर्ण रूप क्या है?

- Ans
- A. Karnataka Fibre Open Network (कर्नाटक फाइबर ओपन नेटवर्क)
 - B. Kerala Fibre Open Network (केरल फाइबर ओपन नेटवर्क)
 - C. Kerala Fibre Optic Network (केरल फाइबर ऑप्टिक नेटवर्क)
 - D. Karnataka Fibre Optic Network (कर्नाटक फाइबर ऑप्टिक नेटवर्क)

Question ID : 630680176233
Status : Answered
Chosen Option : C

Q.9 जैन समुदाय का पवित्र स्थान, सम्मेद शिखर (Sammed Shikhar) कहां स्थित है?

- Ans
- A. महाराष्ट्र
 - B. गुजरात
 - C. ओडिशा
 - D. झारखंड

Question ID : 630680176244
Status : Answered
Chosen Option : A

Q.10 जनवरी 2023 में, उत्तराखंड के किस शहर को आपदा संभावित क्षेत्र (disaster prone area) घोषित किया गया था?

- Ans
- A. देहरादून
 - B. हरिद्वार
 - C. ऋषिकेश
 - D. जोशीमठ

Question ID : 630680176250
Status : Answered
Chosen Option : D

Q.11 तकनीकी स्नातकों को अधिक रोजगार योग्य बनाने के उद्देश्य से, 20 अगस्त 2022 को, राजस्थान के मुख्यमंत्री अशोक गहलोत ने _____ में राजीव गांधी सेंटर ऑफ एडवांस् टेक्नोलॉजी (Rajiv Gandhi Center for Advanced Technologies) का उद्घाटन किया।

- Ans
- A. जयपुर
 - B. बीकानेर
 - C. अजमेर
 - D. कोटा

Question ID : 630680176234
Status : Not Answered
Chosen Option : --

Q.12 अगस्त 2022 तक के अनुसार, निम्नलिखित गाड़ियों में से कौन-सी 6 इंजन और 295 डिब्बों वाली भारत की सबसे लंबी और भारी मालगाड़ी है?

- Ans
- A. सुपर वासुकी
 - B. शेष नाग
 - C. विवेक एक्सप्रेस
 - D. गरीब रथ

INDIA

Question ID : 630680176252
Status : Answered
Chosen Option : A

Q.13 जनवरी 2023 में, 'आकांक्षी प्रखंड कार्यक्रम (Aspirational Block Program)' कहां शुरू किया गया था?

- Ans
- A. चेन्नई
 - B. मुंबई
 - C. नई दिल्ली
 - D. पटना

Question ID : 630680176236
Status : Answered
Chosen Option : C

Q.14 जलपाईगुड़ी और दार्जिलिंग के कुछ हिस्सों का, निम्नलिखित में से कौन-सा लोकप्रिय लोकगीत है, जिसे भैंस पालक हल चलाते समय गाते हैं?

- Ans
- A. पदबली कीर्तन (Padavali Kirtans)
 - B. बाउल (Baul)
 - C. भवैया (Bhawaiya)
 - D. गम्भीरा (Gombhira)

Question ID : 630680176246
Status : Answered
Chosen Option : B

Q.15 1299-1300 और 1302-1303 में दिल्ली पर दो बार आक्रमण हुआ। रक्षात्मक उपाय के रूप में, निम्नलिखित में से किस शासक ने एक बड़ी स्थाई सेना तैयार की?

- Ans
- A. मुहम्मद तुगलक
 - B. गयासुद्दीन तुगलक
 - C. अलाउद्दीन खिलजी
 - D. जलालुद्दीन खिलजी

Question ID : 630680176241
Status : Answered
Chosen Option : C

Q.16 अज्ञात तत्व (undiscovered element) Z=117, आवर्त सारणी के किस समूह से संबंधित है?

- Ans
- A. 16
 - B. 18
 - C. 15
 - D. 17



INDIA

Question ID : 630680176253
Status : Answered
Chosen Option : C

Q.17 निम्नलिखित में से कौन-सा राज्य, भारत का पहला संशोधित जैव-गांव (modified bio-village) वाला पहला राज्य बना?

- Ans
- A. त्रिपुरा
 - B. केरल
 - C. पंजाब
 - D. हरियाणा

Question ID : 630680176237
Status : Answered
Chosen Option : B

Q.18 जनवरी 2023 में, हिमाचल प्रदेश के मुख्यमंत्री ने किस वर्ष तक राज्य को देश का पहला हरित राज्य बनाने का लक्ष्य रखा है?

- Ans A. 2026
 B. 2025
 C. 2027
 D. 2024

Question ID : 630680176235
Status : Answered
Chosen Option : C

Q.19 निम्नलिखित लोकनृत्य में से कौन-सा एक लोकनृत्य है, जिसमें महिला नर्तकियां अपने हाथों से ताली बजाने के बजाय छोटी-छोटी रंग-बिरंगी लकड़ी की छड़ियों का उपयोग करती हैं, जो कुम्भी के समान हैं?

- Ans A. कोलाट्टम (Kolattam)
 B. ओटन कुथु (Ottan Koothu)
 C. करकट्टम (Karakattam)
 D. बोम्मलट्टम (Bommallattam)

Question ID : 630680176245
Status : Answered
Chosen Option : A

Q.20 1915 में जब गांधीजी दक्षिण अफ्रीका से भारत आए और नस्लवादी प्रतिबंधों के खिलाफ अहिंसक मार्च में भारतीयों का नेतृत्व किया, उस समय उनकी आयु क्या थी?

- Ans A. 46 वर्ष
 B. 42 वर्ष
 C. 44 वर्ष
 D. 48 वर्ष

INDIA

Question ID : 630680176243
Status : Answered
Chosen Option : A

Q.21 RBI की एक रिपोर्ट के अनुसार, राज्यों का राजकोषीय घाटा (fiscal deficit), 2020-21 में _____ से 2022-23 में सकल घरेलू उत्पाद का 3.4% अनुमानित है।

- Ans A. 3.9%
 B. 3.7%
 C. 4.1%
 D. 4.4%

Question ID : 630680176248
Status : Answered
Chosen Option : B

Q.22 भारत की स्टार महिला खिलाड़ी सानिया मिर्जा, जिन्होंने जनवरी 2023 में संन्यास (retirement) की घोषणा की, किस खेल से संबंधित है?

- Ans
- A. क्रिकेट
 - B. टेबल टेनिस
 - C. टेनिस
 - D. बैडमिंटन

Question ID : 630680176238
Status : Answered
Chosen Option : B

Q.23 किसी माध्यम से संचरित होने वाली समतल तरंग (plane wave) के लिए तरंगाग्र (wavefront) के आकार को निर्धारित करने के लिए निम्नलिखित में से किस सिद्धांत का उपयोग किया जा सकता है?

- Ans
- A. श्रोडिंगर समीकरण (Schrodinger equation)
 - B. हाइजेनबर्ग का अनिश्चितता सिद्धांत (Heisenberg's Uncertainty Principle)
 - C. हाइगेंस का सिद्धांत (Huygens' Principle)
 - D. न्यूटन का नियम (Newton's Law)

Question ID : 630680176255
Status : Answered
Chosen Option : A

Q.24 मुस्लिम जमींदारों और नवाबों के एक समूह ने 1906 में _____ में अखिल भारतीय मुस्लिम लीग (All India Muslim League) का गठन किया था।

- Ans
- A. ढाका
 - B. मद्रास
 - C. बॉम्बे
 - D. कलकत्ता

INDIA

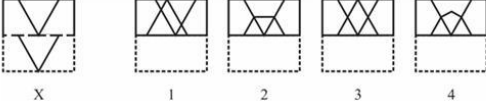
Question ID : 630680176242
Status : Answered
Chosen Option : D

Q.25 निम्नलिखित में से कौन-सा रिट (न्यायिक आदेश) न्यायालय द्वारा उन अधिकारियों को जारी किया जाता है, जो या तो अपने आधिकारिक कर्तव्यों का पालन करने में विफल रहे हों या इनकार कर रहे हों?

- Ans
- A. अधिकार पृच्छा (Quo Warranto)
 - B. उत्प्रेषण (Certiorari)
 - C. प्रतिषेध (Prohibition)
 - D. परमादेश (Mandamus)

Question ID : 630680176256
Status : Answered
Chosen Option : D

Q.1 उस विकल्प का चयन करें, जो यह दर्शाता है कि दिए गए पारदर्शी कागज के टुकड़े को बिंदीदार रेखा पर मोड़ने पर वह कैसा दिखाई देगा।



- Ans
- A. 1
 - B. 4
 - C. 3
 - D. 2

Question ID : 630680176279

Status : Answered

Chosen Option : C

Q.2 दी गई अंग्रेजी वर्णमाला में, पहले और दूसरे, तीसरे और चौथे, पांचवें और छठवें स्थानों के और इसी तरह से बाकी सभी स्थानों के अक्षरों को आपस में बदला जाता है।
(बाएँ) A B C D E F G H I J K L M N O P Q R S T U V W X Y Z (दाएँ)
कौन सा अक्षर बाएँ छोर से 18वें अक्षर के दाएँ से 5वां है?

- Ans
- A. X
 - B. Y
 - C. V
 - D. W

Question ID : 630680176267

Status : Answered

Chosen Option : A

Q.3 नौ मित्र A, B, C, D, E, F, I, G और H किसी पंक्ति में उत्तर की ओर अभिमुख होकर निम्नानुसार बैठे हैं:

- A और I छोरों पर बैठे हैं।
- C, A के दाएँ से तीसरे स्थान पर बैठा है।
- C और G के बीच ठीक दो व्यक्ति बैठे हैं।
- B, पंक्ति के ठीक बीच में बैठे, E के बाएँ से दूसरे स्थान पर बैठा है।
- D और H के बीच ठीक 5 मित्र बैठे हैं।
- F, H के बाएँ से दूसरे स्थान पर बैठा है।
- B और E के बीच कौन बैठा है?

- Ans
- A. D
 - B. F
 - C. G
 - D. C

Question ID : 630680176259

Status : Answered

Chosen Option : D

Q.4 दिए गए विकल्पों में से उस पद का चयन करें जो निम्नलिखित श्रृंखला में प्रश्नवाचक चिह्न (?) को प्रतिस्थापित कर सकता है।

675-A-677, 567-C-585, 459-E-509, 351-G-449, ?

Ans A. 243-I-402

B. 243-I-403

C. 243-I-404

D. 243-I-405

Question ID : 630680176264

Status : Marked For Review

Chosen Option : B

Q.5 दिए गए शब्द "UNIVERSAL" में अक्षरों के ऐसे कितने युग्म हैं, जिनके बीच उतने ही अक्षर हैं, जितने कि मानक अंग्रेजी वर्णमाला श्रृंखला में उनके बीच होते हैं? (आगे और पीछे दोनों तरफ से गणना पर विचार कीजिए)

Ans A. 3

B. 2

C. 4

D. 5

Question ID : 630680176265

Status : Answered

Chosen Option : B

Q.6 दिए गए कथनों और निष्कर्षों को ध्यानपूर्वक पढ़ें। यह मानते हुए कि कथनों में दी गई जानकारी सत्य है, भले ही यह सामान्य रूप से ज्ञात तथ्यों से भिन्न प्रतीत होती हो, तय करें कि दिए गए निष्कर्षों में से कौन सा/से निष्कर्ष कथनों का तार्किक रूप से अनुसरण करता है/करते हैं।

कथन:

A. कुछ पंखे, छत हैं।

B. सभी छत, तहखाने हैं।

निष्कर्ष:

I. कुछ पंखे, तहखाने हैं।

II. कुछ तहखाने, छत हैं।

Ans A. दोनों निष्कर्ष I और II अनुसरण करते हैं।

B. केवल निष्कर्ष II अनुसरण करता है।

C. न तो निष्कर्ष I और न ही निष्कर्ष II अनुसरण करता है।

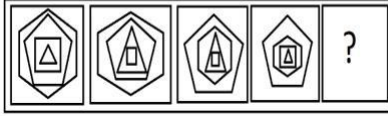
D. केवल निष्कर्ष I अनुसरण करता है।

Question ID : 630680176262

Status : Answered

Chosen Option : A

Q.7 दिए गए विकल्पों में से उस आकृति का चयन करें जो निम्नलिखित श्रृंखला में प्रश्नवाचक चिह्न (?) को प्रतिस्थापित कर सकती है।



Ans

✗ A.



✓ B.



✗ C.



✗ D.



Question ID : 630680176277

Status : Answered

Chosen Option : B

Q.8 निम्नलिखित जानकारी को ध्यानपूर्वक पढ़ें।
जयकांत, नीलम से छोटे राहुल से छोटा है।
सचिन, विवेक से छोटा है लेकिन उस सुरेश से बड़ा है, जो कि प्रकाश से छोटा नहीं है।
प्रकाश, नीलम का बड़ा भाई है।
समूह में किसकी आयु सबसे अधिक है?

Ans ✗ A. सचिन

✗ B. सुरेश

✓ C. विवेक

✗ D. नीलम

Question ID : 630680176263

Status : Answered

Chosen Option : C

Q.9 चार अक्षर-समूह युग्म दिए गए हैं, जिनमें से तीन किसी प्रकार से एकसमान हैं और एक असंगत है। असंगत अक्षर-समूह युग्म का चयन करें।

- Ans
- A. EAGERNESS : OFTTSFHF
 - B. VACCINATE : OBUFJWBDD
 - C. FABULATED : BUFEMEZAT
 - D. VACATIONS : JPOTUWBDB

Question ID : 630680176273
Status : Answered
Chosen Option : C

Q.10 यदि M @ N का अर्थ है कि, 'M, N की बहन है',
M # N का अर्थ है कि, 'M, N की पत्नी है',
M * N का अर्थ है कि, 'M, N का पिता है',
M & N का अर्थ है कि, 'M, N का भाई है',
"P # Q * R & T @ S" के संबंध में T का P से क्या रिश्ता है?

- Ans
- A. P का दामाद
 - B. P की पुत्री
 - C. P का पुत्र
 - D. P की पुत्रवधू

Question ID : 630680176270
Status : Answered
Chosen Option : B

Q.11 उस विकल्प का चयन करें जिसके शब्द-युग्म में वही संबंध मौजूद है, जो दिए गए शब्द-युग्म के बीच मौजूद है।

ICEBERG : TIVVXR

- Ans
- A. ICECAPS : RXVXZKH
 - B. ICEFALL : VXRUOOZ
 - C. ICEBOAT : GZLYVXR
 - D. ICELESS : VHHRXV

Question ID : 630680176271
Status : Answered
Chosen Option : C

Q.12 चार अक्षर-समूह युग्म दिए गए हैं, जिनमें से तीन किसी प्रकार से एकसमान हैं और एक असंगत है। असंगत अक्षर-समूह युग्म का चयन करें।

- Ans
- A. CULTURE : VIFGOFX
 - B. ICEBOAT : GZLYVXR
 - C. HABITAT : GZGRYZS
 - D. FORTUNE : ULIGFMV

Question ID : 630680176275
Status : Answered
Chosen Option : D

Q.13 चार अक्षर-समूह युग्म दिए गए हैं, जिनमें से तीन किसी प्रकार से एकसमान हैं और एक असंगत है। असंगत अक्षर-समूह युग्म का चयन करें।

- Ans
- A. BREAKING : IYZVRPTM
 - B. BACHELOR : ZYSXOVIL
 - C. ACCEPTED : ZXXVKGWV
 - D. CONFUSED : LXUMHFWV

Question ID : 630680176274
Status : Answered
Chosen Option : C

Q.14 निम्नलिखित शब्द का दर्पण प्रतिबिम्ब क्या होगा?

FIGMENT

Ans

- A. TNEIMGIT
- B. TNEIGNIT
- C. TNEIGNIT
- D. TNEIMGIT

Question ID : 630680176278
Status : Answered
Chosen Option : D

Q.15 सुबह-सुबह, राहुल ने उगते सूरज की ओर रखते पीठ करते हुए चलना शुरू किया और 8 m की दूरी तय की। फिर वह दक्षिण-पूर्व की ओर मुड़ा और 10 m की दूरी तय की। फिर वह दक्षिण की ओर मुड़ा और उसने 6 m की दूरी तय की। फिर वह दाएं मुड़ा और 8 m की दूरी तय की। फिर वह अंत में उत्तर-पूर्व की ओर मुड़ा और उसने 10 m की दूरी तय की। वह शुरुआती बिंदु से कितनी दूर है?

- Ans
- A. 2 m
 - B. 10 m
 - C. 8 m
 - D. 6 m

Question ID : 630680176269
Status : Marked For Review
Chosen Option : D

Q.16 आठ विद्यार्थियों अजय, रवि, संजय, विजय, अंजली, आंचल, रूही और नैना का एक समूह अपने बीच समान दूरी रखकर एक गोलाकार मेज पर केंद्र की ओर उन्मुख होकर बैठा है। उनमें से नैना, अंजली, आंचल और रूही ये चारों महिलाएं हैं तथा शेष पुरुष हैं और उन्हें निम्नानुसार व्यवस्थित किया गया है:
अजय, आंचल के दाएं से तीसरे स्थान पर बैठा है।
आंचल, रवि के सामने बैठे, संजय के दाएं से तीसरे स्थान पर बैठी है।
अंजली और रूही एक दूसरे के सामने बैठी हैं।
कोई भी दो पुरुष या दो महिलाएं एक साथ नहीं बैठे हैं।
रूही कभी भी अजय और रवि के बीच नहीं बैठती है।
नैना और रूही के बीच कौन बैठा है?

- Ans A. विजय
 B. संजय
 C. रवि
 D. अजय

Question ID : 630680176258

Status : Answered

Chosen Option : A

Q.17 एक निश्चित कूट भाषा में, 'ABSENT' को 'DCGUVP' के रूप में लिखा जाता है। उसी भाषा में "ACCESS" को कैसे लिखा जाएगा?

- Ans A. ECGEUU
 B. CEEGUU
 C. CEGEUU
 D. ECEGUU

Question ID : 630680176268

Status : Answered

Chosen Option : A

Q.18 59 विद्यार्थियों की एक कक्षा में, केवल 16 विद्यार्थियों ने रत्ना से कम लेकिन महक से अधिक अंक प्राप्त किए हैं। यदि महक की रैंक पीछे से 27वीं है, तो आगे से रत्ना की रैंक क्या है?

- Ans A. 16
 B. 15
 C. 12
 D. 10

Question ID : 630680176260

Status : Answered

Chosen Option : A

Q.19 चार अक्षर-समूह युग्म दिए गए हैं, जिनमें से तीन किसी प्रकार से एकसमान हैं और एक असंगत है। असंगत अक्षर-समूह युग्म का चयन करें।

- Ans A. CONCRETE : CRCPALMA
 B. HANDLING : ELGJBLYF
 C. ACADEMIC : YAYBCKGA
 D. PRESSURE : CPSQQCPN

Question ID : 630680176272

Status : Answered

Chosen Option : C

Q.20 नीचे दिए गए प्रश्न का उत्तर देने के लिए, श्रृंखला रूप में मानक अंग्रेजी वर्णमाला दी गई है।
 (बाएँ) A B C D E F G H I J K L M N O P Q R S T U V W X Y Z (दाएँ)
 कौन सा अक्षर दाएं छोर से 14वें अक्षर के बाएं से तीसरा है?

- Ans
- A. H
 - B. I
 - C. J
 - D. K

Question ID : 630680176266
 Status : Answered
 Chosen Option : C

Q.21 दिए गए विकल्पों में से उस आकृति का चयन करें जो निम्नलिखित श्रृंखला में प्रश्नवाचक चिह्न (?) को प्रतिस्थापित कर सकती है।



Ans

- A.
- B.
- C.
- D.

Question ID : 630680176276
 Status : Marked For Review
 Chosen Option : B

Q.22 निम्नलिखित समीकरण में प्रश्नवाचक चिह्न (?) के स्थान पर लगभग क्या मान आना चाहिए?
 $167.89 + 33.69 \times 13.37 \div 17.17 - 123.69 = ?$

- Ans A. 78
 B. 67
 C. 70
 D. 96

Question ID : 630680176282
Status : Answered
Chosen Option : A

Q.23 एक सिनेमा हॉल में, दोस्तों का एक समूह एक ही पंक्ति में उत्तर की ओर अभिमुख होकर निम्नानुसार बैठा है, लेकिन जरूरी नहीं कि वे एक-दूसरे के बगल में बैठें हों।
कोपल किसी एक छोर पर बैठा है तथा कोपल और बिपिन के बीच दो व्यक्ति बैठे हैं।
गगदीप पंक्ति के बीच में बैठा है।
फुरकान, बिपिन के बाएं से तीसरे स्थान पर बैठा है।
अजय पंक्ति के किसी एक छोर पर बैठा है।
अजय और दीपा के बीच पाँच व्यक्ति बैठे हैं।
अजय और दीपा के ठीक बीच में ईशा बैठी है।
दीपा और गगदीप के बीच दो व्यक्ति बैठे हैं।
दीपा और कोपल के ठीक बीच में फुरकान बैठा है।
दीपा और कोपल के बीच में कितने व्यक्ति बैठे हैं?

- Ans A. 9
 B. 13
 C. 10
 D. 11

Question ID : 630680176261
Status : Marked For Review
Chosen Option : B

Q.24 दिए गए विकल्पों में से उस संख्या का चयन करें जो निम्नलिखित श्रृंखला में प्रश्नवाचक चिह्न (?) को प्रतिस्थापित कर सकती है।
8, 4, 4, 6, 12, ?

- Ans A. 36
 B. 24
 C. 18
 D. 30

Question ID : 630680176280
Status : Answered
Chosen Option : D

Q.25 दिए गए विकल्पों में से उस संख्या का चयन करें जो निम्नलिखित श्रृंखला में प्रश्नवाचक चिह्न (?) को प्रतिस्थापित कर सकती है।
20, 60, 95, 125, 150, ?

- Ans A. 160
 B. 175
 C. 170
 D. 180

Question ID : 630680176281

Status : Answered

Chosen Option : C

Section : Quantitative Aptitude

Q.1 दो वस्तुओं के क्रय मूल्यों का योगफल ₹2,310 है। उनमें से एक वस्तु 50% लाभ पर बेची जाती है, जबकि दूसरी वस्तु 25% लाभ पर बेची जाती है। यदि दोनों वस्तुओं का विक्रय मूल्य समान है, तो 50% लाभ पर बेची गई वस्तु का क्रय मूल्य क्या है?

- Ans A. ₹1,320
 B. ₹1,050
 C. ₹1,400
 D. ₹1,150

Question ID : 630680176292

Status : Answered

Chosen Option : C

Q.2 एक आयत की लंबाई और चौड़ाई क्रमशः 65 m और 48 m है। यदि आयत की लंबाई में 20% की वृद्धि होती है, जबकि आयत की चौड़ाई में 10% की कमी होती है, तो आयत के क्षेत्रफल में कितने प्रतिशत की कमी या वृद्धि होगी?

- Ans A. 8% वृद्धि
 B. 4% कमी
 C. 6% कमी
 D. 10% वृद्धि

Question ID : 630680176289

Status : Answered

Chosen Option : A

Q.3 लक्षिता के पिता की आयु, उसकी आयु की 5 गुना है। यदि 7 वर्ष पहले उनकी (पिता की) आयु, लक्षिता की आयु की 8 गुना थी, तो उसके पिता की वर्तमान आयु और उसकी 7 वर्ष पहले की आयु का अनुपात ज्ञात कीजिए।

- Ans A. 36 : 7
 B. 35 : 4
 C. 49 : 3
 D. 43 : 9

Question ID : 630680176295

Status : Answered

Chosen Option : C

Q.4 एक वस्तु की कीमत में 35% की कमी होती है। मूल कीमत प्राप्त करने के लिए नई कीमत में कितनी वृद्धि करनी होगी?

Ans

A. $52\frac{1}{13}\%$

B. $66\frac{2}{13}\%$

C. $53\frac{11}{13}\%$

D. $33\frac{1}{3}\%$

Question ID : 630680176290

Status : Answered

Chosen Option : C

Q.5 ₹2,600 की राशि, 9.5% वार्षिक चक्रवृद्धि ब्याज पर कितने समय में ₹2,847 हो जाएगी?

Ans

A. 1 वर्ष

B. $2\frac{1}{2}$ वर्ष

C. 3 वर्ष

D. 2 वर्ष

Question ID : 630680176297

Status : Answered

Chosen Option : A

Q.6 वह छोटी से छोटी संख्या ज्ञात कीजिए, जिसे 12 से विभाजित करने पर शेषफल 11, 15 से विभाजित करने पर शेषफल 14 और 75 से विभाजित करने पर शेषफल 74 प्राप्त हो।

Ans

A. 299

B. 59

C. 599

D. 899

Question ID : 630680176285

Status : Answered

Chosen Option : D

Q.7 निम्नलिखित तालिका भारत के चावल निर्यात को दर्शाती है।

वर्ष	मात्रा (लाख kg में)	उपाजर्ज (₹ करोड़ में)
1993	110	230
1994	95	210
1995	125	340
1996	130	430
1997	200	450

यदि वर्ष 1997 में चावल की कीमत में 40% की वृद्धि होती और निर्यात किए गए चावल की मात्रा में 30% की गिरावट होती, तो उस वर्ष में चावल के निर्यात से भारत का उपाजर्ज कितना हुआ होता?

- Ans
- A. ₹438 करोड़
 - B. ₹442 करोड़
 - C. ₹441 करोड़
 - D. ₹460 करोड़

Question ID : 630680176302

Status : Answered

Chosen Option : D

Q.8 संख्या 7^{344} के अंतिम दो अंकों का योगफल क्या है?

- Ans
- A. 13
 - B. 11
 - C. 7
 - D. 1



INDIA

Question ID : 630680176286

Status : Answered

Chosen Option : D

Q.9 यदि $\tan\theta = \frac{2}{7}$ है, तो $\frac{4\cos\theta - 7\sin\theta}{4\cos\theta + 7\sin\theta}$ का मान ज्ञात कीजिए।

- Ans
- A. $\frac{1}{2}$
 - B. $\frac{4}{5}$
 - C. $\frac{3}{2}$
 - D. $\frac{1}{3}$

Question ID : 630680176306

Status : Answered

Chosen Option : D

Q.10 किसी समलंब में, समांतर भुजाओं के बीच का योगफल और अंतर 15 cm तथा 3 cm है और असमांतर भुजाओं के बीच का योगफल और अंतर क्रमशः 4 cm और 5 cm है। इसका क्षेत्रफल ज्ञात कीजिए।

- Ans
- A. 32 cm²
 - B. 35 cm²
 - C. 25 cm²
 - D. 30 cm²

Question ID : 630680176305
Status : Answered
Chosen Option : D

Q.11 यदि $\frac{(2^{a+b})^2 \times (2^{b+c})^2 \times (2^{c+a})^2}{(2^a 2^b 2^c)^3} = 4$ है, तो $a + b + c$ का मान _____ के बराबर होगा।

- Ans
- A. 2
 - B. 1
 - C. 0
 - D. -2

Question ID : 630680176283
Status : Answered
Chosen Option : A

Q.12 λ का मान निर्धारित कीजिए, जिसकी वजह से समीकरण निकाय $2x + y = 0$ और $x + \lambda y = 0$ का शून्यतर हल (non-zero solution) हो।

- Ans
- A. 2
 - B. 0.5
 - C. 1
 - D. 7

Question ID : 630680176303
Status : Answered
Chosen Option : A

Q.13 कोई ठेकेदार, किसी कार्य को 30 दिन में करने का ठेका लेता है। 110 आदमी उस कार्य को 20 दिन में कर सकते हैं। पहले वह 200 आदमियों को नियोजित करता है। 10 दिन बाद, उसे कितने आदमियों को निकालना चाहिए, ताकि कार्य समय पर समाप्त हो जाए?

- Ans
- A. 190
 - B. 125
 - C. 155
 - D. 180

Question ID : 630680176300
Status : Answered
Chosen Option : D

Q.14 84 आदमी, किसी कार्य को 30 दिन में पूरा कर सकते हैं। 15 दिन बाद, और आदमियों को कार्य के लिए नियुक्त किया जाता है, और कार्य निर्धारित समय से 5 दिन पहले पूरा हो जाता है। कुल कितने और आदमियों को कार्य के लिए नियुक्त किया गया था?

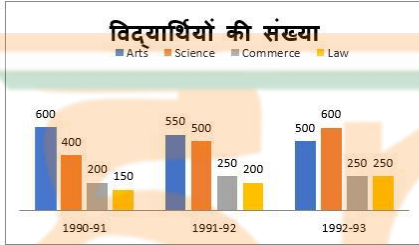
- Ans A. 42 आदमी
 B. 40 आदमी
 C. 32 आदमी
 D. 48 आदमी

Question ID : 630680176299

Status : Answered

Chosen Option : A

Q.15 निम्नलिखित एकाधिक दंड आरेख 1990-91 से 1992-93 तक किसी कॉलेज के चार संकायों में विद्यार्थियों की संख्या में हुए परिवर्तन को दर्शाता है।



Arts = कला, science = विज्ञान, Commerce = वाणिज्य, Law = विधि
किस वर्ष के दौरान कला संकाय में न्यूनतम संख्या थी?

- Ans A. 1992-93
 B. 1990-91 और 1991-92, दोनों
 C. 1991-92
 D. 1990-91

Question ID : 630680176301

Status : Answered

Chosen Option : A

Q.16 चीनी की कीमत में 16% की कमी होने पर कोई व्यक्ति ₹250 में 2 kg अधिक चीनी खरीद सकता है। प्रति kg मूल कीमत (लगभग) _____ थी।

- Ans A. ₹20.30
 B. ₹22.90
 C. ₹23.80
 D. ₹25.20

Question ID : 630680176291

Status : Answered

Chosen Option : D

Q.17 6 वर्ष पहले, किसी परिवार के चार सदस्यों की औसत आयु 15 वर्ष थी। इसी बीच, उस परिवार में दो बच्चों का जन्म हुआ। हालांकि, उस परिवार के सदस्यों की वर्तमान औसत आयु अभी भी उतनी ही है, जो 6 वर्ष पहले थी। यदि बच्चों की आयु में 2 वर्ष का अंतर है, तो बड़े बच्चे की आयु कितनी है?

- Ans A. 4 वर्ष
 B. 5 वर्ष
 C. 3 वर्ष
 D. 2 वर्ष

Question ID : 630680176288
Status : Answered
Chosen Option : A

Q.18 किसी योगा केंद्र पर 32 लड़कों का औसत वर्कआउट 136 hrs है, जबकि 88 लड़कियों का औसत वर्कआउट 126 hrs है। लड़के और लड़कियों का एक साथ औसत वर्कआउट _____ होगा।

- Ans A. $130\frac{2}{3}$ hrs
 B. $127\frac{3}{4}$ hrs
 C. $124\frac{5}{7}$ hrs
 D. $128\frac{2}{3}$ hrs

Question ID : 630680176287
Status : Answered
Chosen Option : B

Q.19 यदि 9 और 42 का तीसरा अनुपातिक (third proportional) $3\alpha + 7$ है, तो α का मान ज्ञात कीजिए।

- Ans A. 189
 B. 63
 C. 196
 D. 65

Question ID : 630680176294
Status : Answered
Chosen Option : B

Q.20 किसी वस्तु का अंकित मूल्य ₹20,000 है। तीन क्रमागत छूट के बाद वस्तु को ₹10,166 में बेचा जाता है। दूसरी और तीसरी क्रमिक दरों का मान क्रमशः 35% और 15% है। पहली दर का मान क्या है?

- Ans A. 6%
 B. 15%
 C. 9%
 D. 8%

Question ID : 630680176293
Status : Answered
Chosen Option : D

Q.21 यदि ₹4,500 की राशि, किसी निश्चित साधारण ब्याज प्रतिवर्ष की दर पर 1 वर्ष में ₹4,860 हो जाती है, तो समान ब्याज दर पर 3 वर्ष बाद यह राशि कितनी हो जाएगी?

- Ans
- A. ₹6,300
 - B. ₹5,670
 - C. ₹6,170
 - D. ₹5,580

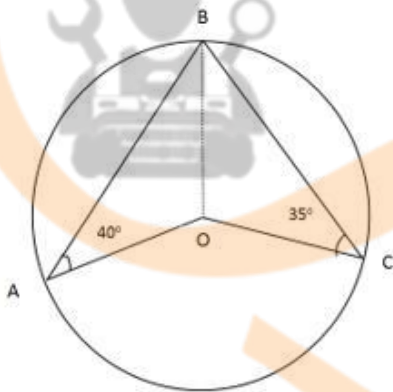
Question ID : 630680176296
Status : Answered
Chosen Option : D

Q.22 किसी कार के पहिए की परिधि 2.5 m है। यदि इसकी चाल 57 km/h है, तो पहिया एक min में कितनी बार घूमेगा?

- Ans
- A. 395
 - B. 380
 - C. 370
 - D. 375

Question ID : 630680176298
Status : Answered
Chosen Option : B

Q.23 दी गई आकृति में, $\angle AOC$ का माप ज्ञात कीजिए।



- Ans
- A. 120°
 - B. 75°
 - C. 140°
 - D. 150°

Question ID : 630680176307
Status : Answered
Chosen Option : C

Q.24 निम्नलिखित भिन्नो में से सबसे बड़ा भिन्न ज्ञात कीजिए।

$$\frac{8}{11}, \frac{15}{19}, \frac{4}{5}, \frac{13}{21}$$

Ans

✓ A. $\frac{4}{5}$

✗ B. $\frac{13}{21}$

✗ C. $\frac{15}{19}$

✗ D. $\frac{8}{11}$

Question ID : 630680176284

Status : Answered

Chosen Option : A

Q.25 अर्नव और अमाया की आयु का योगफल 18 वर्ष है। 3 वर्ष बाद अर्नव की आयु, अमाया की आयु की तीन गुना हो जाएगी। अमाया की आयु क्या है?

Ans

✓ A. 3 वर्ष

✗ B. 2 वर्ष

✗ C. 2.5 वर्ष

✗ D. 5 वर्ष



INDIA

Question ID : 630680176304

Status : Answered

Chosen Option : A